

台北市立石牌國民中學 103 學年度第二學期第三次定期考查七年級社會科試卷

七年 班 號 姓名

第一部分：歷史科(33%)

配分：【第 1~題，每題 1 分；第~題，每題 2 分。】

1.關於半個多世紀來台灣的教育發展，下列何者是正確的？

- (A) 日治後期：六年義務教育
- (B) 遷台初期：九年國教
- (C) 民國 57 年：十二年國教
- (D) 解嚴後：國語運動


2.民國 84 年，李登輝於總統任內訪問美國，並於母校康乃爾大學發表演說。請問：下列何者最「不可能」是李登輝總統於演講時所提到的內容？

- (A) 台灣以穩定和持續的經濟發展為基礎，和平的完成政治改革
- (B) 台灣在蔣中正和蔣經國總統領導下，經歷經濟起飛，成就非凡
- (C) 我呼籲大陸當局，放棄對立，開啟海峽兩岸和平競爭的新時代
- (D) 只有互相尊重，才能達成一國兩制，民主、自由和均富的目標

3.戰後至今，台灣歷經許多社會變遷，但下列何者並「不屬於」目前台灣所面臨的挑戰，或是亟需關切的議題？

- (A) 人口快速成長 (B) 城鄉差距 (C) 多元族群社會 (D) 高齡化社會

4.今年 5 月初，中國國民黨主席朱立倫與中國共產黨總書記習近平於北京人民大會堂會面，這是國共內戰至今兩岸「執政黨領導人」首次的會面，別具歷史意義。請問：關於過去中國國民黨歷任領導人的兩岸政策，下列何者是正確的？ (A) 蔣中正：光復大陸 (B) 蔣經國：三通四流 (C) 李登輝：三不政策 (D) 馬英九：動員戡亂



5.民國 70 年，我國為突破外交困境，持續國際間的體育交流，決定改以「中華台北」(Chinese Taipei，上圖)為名重返國際奧會，並從民國 73 年舉辦的洛杉磯奧運開始重返奧運賽場。請問：當時台灣的外交屬於哪一個階段？

- (A) 鞏固外交 (B) 彈性外交 (C) 區域外交 (D) 務實外交

6.今年 3 月底，國軍爆發「藝人登阿帕契直升機合照打卡案」，引發軒然大波。其實阿帕契直升機為我國於 2008 年向美國所採購，隸屬於陸軍航空特戰指揮部。請問：目前美國之所以提供防禦性武器給臺灣人民，並與臺灣維持非官方往來，其依據為何？ (A) 台灣關係法 (B) 中美共同防禦條約 (C) 中美建交公報 (D) 亞太經濟合作協議

7.上個月 15 號，立法院三讀通過「長期照護服務法」，未來將全民納保，為衛福制度繼「全民健保」後的再次重大變革。請問：「全民健保」自何時即開始實施？

- (A) 民國 44 年 (B) 民國 64 年 (C) 民國 84 年 (D) 民國 94 年

8.民國 89 年總統大選，是台灣第一次的政黨輪替，選前中華人民共和國國務院發表他們對台灣選舉及其兩岸政策的看法。請問：下列何者「不可能」是其談話的內容？

- (A) 不管誰上台，絕對不能搞台灣獨立，任何形式的獨立都不能允許
- (B) 我們解決台灣問題的一貫方針，始終是和平統戰，以及一國兩制
- (C) 誰贊成一個中國的原則，我們就支持誰，並且承諾放棄使用武力
- (D) 我們能夠允許屬於中國領土的台灣從祖國分裂出去嗎？絕對不能

9.為改善農民生活，提高農業生產，台灣省政府自民國 38 年起實施一系列的土改改革，以扶持自耕農。請問：下列何者並「不屬於」當時的改革項目？ (A) 三七五減租 (B) 農業機械化 (C) 公地放領 (D) 耕者有其田

10.民國 60 年，某國際組織通過以下決議：「承認中華人民共和國政府的代表是中國的唯一合法代表，並立即把蔣中正的代表從所非法佔據的席位驅逐出去。」請問：這個國際組織應該為何？ (A) 國際聯盟 (B) 世界貿易組織 (C) 亞太經濟合作會議 (D) 聯合國

11.民國 39-42 年的一場戰爭，讓美國決定對中華民國提供援助及支持，使得台海局勢從動盪轉趨穩定。請問：這場戰爭指的是？ (A) 第二次世界大戰 (B) 國共內戰 (C) 韓戰 (D) 越戰

12.民國 68 年，台灣第一個科學工業園區動土興建，園區包括半導體、電腦、通訊、光電、精密機械與生物技術等六大產業，對 70 年代以來台灣的產業升級有重大貢獻。請問：這個號稱「台灣矽谷」的科學園區位於何處？

- (A) 內湖 (B) 新竹 (C) 台中 (D) 高雄

13.根據瑞士洛桑管理學院近日所公布的 2015 年全球競爭力報告，台灣排名全球第 11 位、亞洲第 3 位，表現堪稱亮眼。請問：回顧台灣過去經濟發展的軌跡，下列何者是正確的？

- (A) 40 年代，採「出口導向」，鼓勵投資
- (B) 50 年代，採「進口替代」，扶植民生工業
- (C) 60 年代，加強基礎建設，發展高科技產業
- (D) 70 年代以後，貿易走向自由化、國際化

14.上個月剛落幕的法國坎城影展，台灣導演侯孝賢以電影「聶隱娘」獲得最佳導演獎殊榮。其實早在民國 78 年，侯孝賢就以一部以二二八事件為背景的电影「悲情城市」，獲得威尼斯影展最佳影片的肯定。請問：對於「悲情城市」這部電影創作的時代背景，下列何者是正確的？

- (A) 政府積極清除日本殖民統治所遺留的文化影響
- (B) 時值解嚴前後，台灣社會逐漸走向開放
- (C) 美軍仍舊駐台，使美國流行文化深入台灣社會
- (D) 台灣剛退出聯合國，必須以彈性策略進行國際文化交流

※背面尚有題目

七年 班 號 姓名

15. 民國 60 年代，政府為改善經濟環境，帶動景氣復甦，於是推動「十大建設」。請問：當時台灣所面對的嚴峻挑戰為何？(A) 能源危機 (B) 金融危機 (C) 台海飛彈危機 (D) 人口老化衝擊
16. 承上題，十大建設當中，以交通建設佔六項為最多。請問：下列何者屬於其中之一？(A) 高雄港 (B) 松山國際機場 (C) 南迴鐵路 (D) 鐵路電氣化

今年 3 月，新加坡華裔政治家、建國總理李光耀因病過世，享壽 91 歲。回顧新加坡自 1965 年獨立建國後，能夠由經濟落後的小國成長成為亞洲四小龍之一，國際競爭力始終名列前茅，李光耀的領導功不可沒。而李與兩岸歷任領導人多有交情，對於 1993 年「辜汪會談」能夠順利舉辦，他亦具有關鍵的影響。請問：

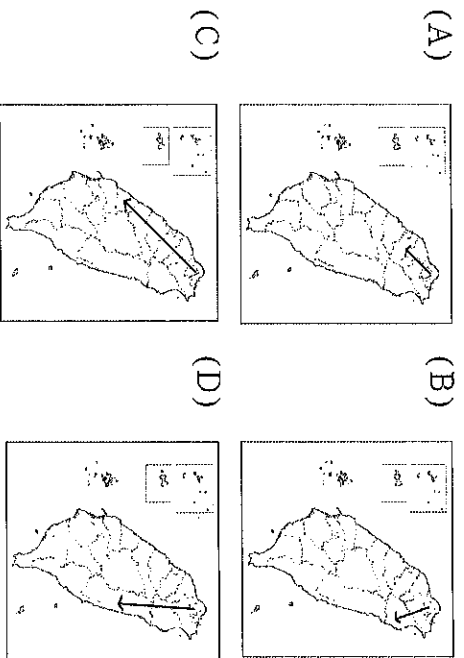
17. 亞洲四小龍，除了新加坡跟台灣以外，還有哪兩個地區？(A) 日本、南韓 (B) 南韓、香港 (C) 香港、馬來西亞 (D) 馬來西亞、泰國
18. 兩岸之間第一次正式的會談～「辜汪會談」，台灣代表團團長辜振甫是以什麼身份與會？  
(A) 行政院院長 (B) 大陸委員會主委 (C) 外交部部長 (D) 海峽交流基金會董事長

今年 5 月 23-24 號，行政院大陸委員會（陸委會）主委夏立言與中國國務院台灣事務辦公室（國台辦）主任張志軍，於金門進行「第三次兩岸事務首長會議」。由於會談地點在金門，雙方也討論包括「金門自大陸引水」、「越界捕魚」、「陸客金馬旅遊」、「小三通貨物卡關」等議題。張志軍於參觀金門著名鋼刀店時，獲贈一把「炮彈鋼刀」，他說：希望兩岸化干戈為玉帛，不再有戰爭。請問：

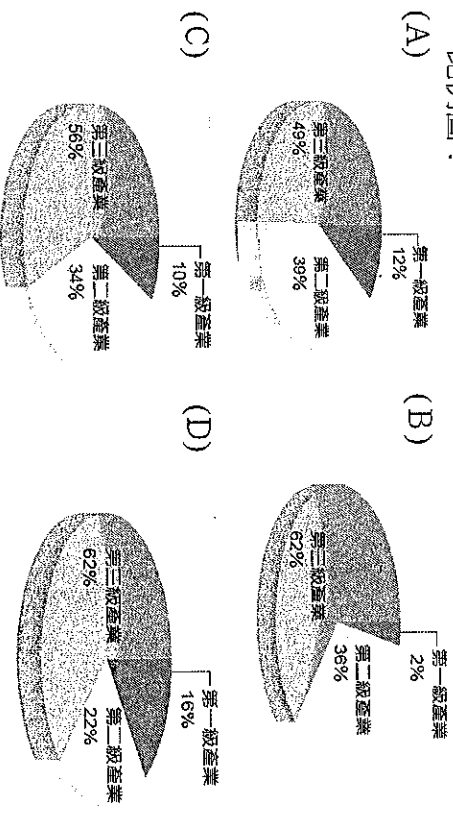
19. 金門在三百多年前，即為鄭成功、鄭經父子所經營之反清復明基地，在兩岸分裂分治階段也是重要的前線戰地，並且到民國 81 年方解除戒嚴。請問：下列歷史事件何者「並非」發生在金門？(A) 古寧頭戰役 (B) 八二三炮戰 (C) 辜汪會談 (D) 小三通
20. 自八二三炮戰開始，中國解放軍前後砲擊金門將近 20 年、超過百萬枚砲彈，其廢棄彈殼便被金門人用來鍛造刀具，使金門菜刀遠近馳名。請問：民國 68 年中國政府宣布停止對金門等島嶼的砲擊，其原因應該為何？  
(A) 中國加入聯合國 (B) 台灣宣布解除戒嚴 (C) 中國提出和平統戰 (D) 台灣終止動員戡亂
21. 馬英九總統於 20 多年前曾擔任過陸委會副主委，民進黨主席蔡英文亦於 10 多年前擔任過陸委會主委。請問：下列何者為陸委會成立至今，兩岸關係的重要發展之一？  
(A) 台灣開放民眾至大陸探親 (B) 兩岸正式大三通 (C) 中國提出一國兩制 (D) 台灣堅持三不政策

第二部分：地理科(34%)  
配分：【第 22~30 題，每題 2 分；第 31~46 題，每題 1 分。】

22. 下列是石牌國中七年級在北部區域進行校外教學的行程：「石牌國中→福爾摩沙高速公路→關西→六福村」請問：哪一張地圖的標示是石牌國中校外教學的路線？



23. 『臺灣東部區域除了少數的水泥、大理石工業，工業發展在臺灣各區域中最不發達，但是因有豐富的自然和人文景觀，觀光業成為東部區域主要的收入來源。』根據文中所敘述，下列何者應是東部區域各級產業就業人口比例圖？



24. 小明參加「圖說臺灣中部區域」大挑戰活動，挑戰者必須先找出與主題相符的項目，才能進行闖關活動，請問小明欲求挑戰成功必須選擇下列哪些項目？  
(A) 甲丁 (B) 乙丙 (C) 丙己 (D) 丁戊

甲	豐富 Fengfu 苗栗 Mialoh ↔ 造橋 Zaoche 3.5公里(km) 6.5公里(km)	乙	新城(太魯閣) Xincheng(Taroko) 峯峻 Jingshen 5.3公里(km) 5.3公里(km)
丙	三臺 San Tai 新莊 Xinzhuang ↔ 南港 Nangang 中和 Zhonghe 新市 Xinshi 新莊 Xinzhuang 南港 Nangang	丁	奇萊山 Qilai Shan 2000m 3000m 4000m 藍花 Lan Hua 大橋山 Daqiao Shan 1000m 2000m 3000m
戊	海蝕洞 Haishi Dong	己	海岸 Hai'an 海岸 Hai'an 海蝕洞 Haishi Dong

25. 近年來，政府積極鼓勵發展特色產業、舉辦節慶活動，例如：「客家桐花季」、「大溪陀螺節」、「內門宋江陣嘉年華」、「古坑咖啡節」……等。這些措施其主要目的是

※背面尚有題目

七年 班 號 姓名

下列何者？(A)提供都市民眾居住與產業發展的主要空間 (B)促進各級產業升級以提升臺灣都市化程度 (C)鼓勵國際分工合作達成縮小城鄉發展差距 (D)促進鄉村觀光業發展進而擴大地方特色商品市場。

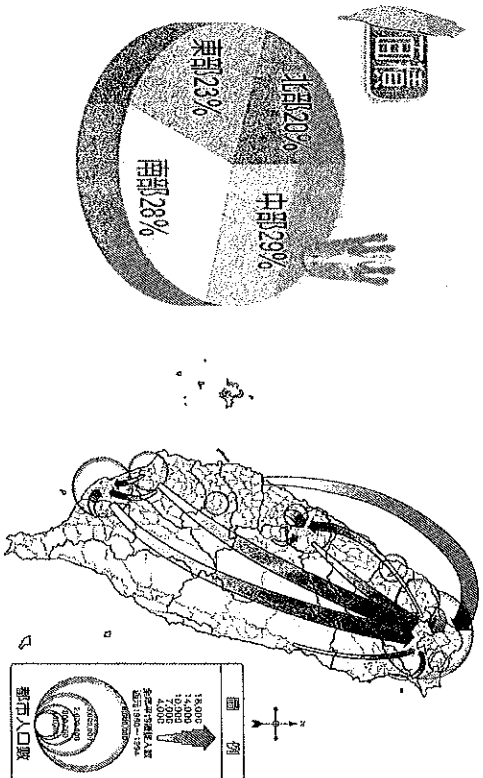
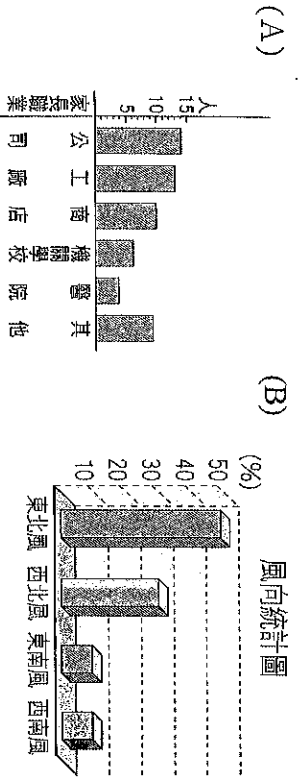
26.下列表格是金門與馬祖的比較資料，請問：哪些是正確的項目？(A)甲乙 (B)乙丙 (C)丙丁 (D)甲丁

島嶼	(甲)位置	(乙)類型	(丙)行政區	(丁)特色
金門	南部區域	大陸島	金門縣	風獅爺
馬祖	北部區域	火山島	連江縣	芹壁村建築

27.以下是臺灣各地的地理資料，請問：若以臺灣本島北部、中部、南部、東部作為區域劃分，表格中哪些地點位於同一區域？(A)甲丁 (B)乙丙 (C)丁戊 (D)甲戊

甲	由於烏山頭水庫的設立，灌溉渠道密布，菱角栽種面積達300公頃。
乙	東臨太平洋，南有中央山脈，三面環山，地質構造非常特殊，有極為罕見的冷泉資源。
丙	屬於熱帶季風氣候，雨量充沛，造就了聞名的優質池上米，”池上便當”更是享譽全臺。
丁	位於大甲溪與大肚溪之間，坡度平緩，地形為沖積平原，溪口有高美濕地，自然生態豐富。
戊	早期為台江內海的一部分，地形多為灘地、沙洲、潟湖，適宜養殖漁業發展。

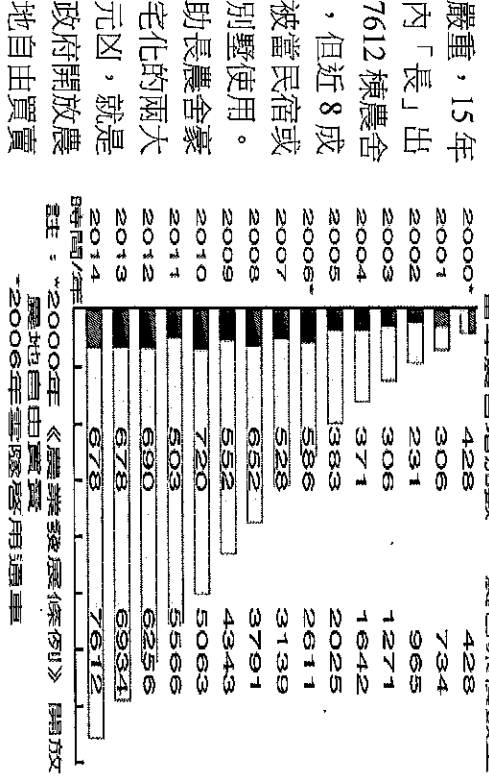
28.欲說明「區域發展不平衡」的現象，請問採用下列哪一項資料較適合？



29.小英將臺灣北部區域的氣候特色整理如下：(甲)緯度較高，因此全年冷溼。(乙)因為春夏常有颱風雨，所以形成全臺灣雨量最多的地區。(丙)雨季較長，河川水位變化較小。(丁)玉山山脈阻擋東北季風水氣，造成冬雨綿綿。請問何者正確？


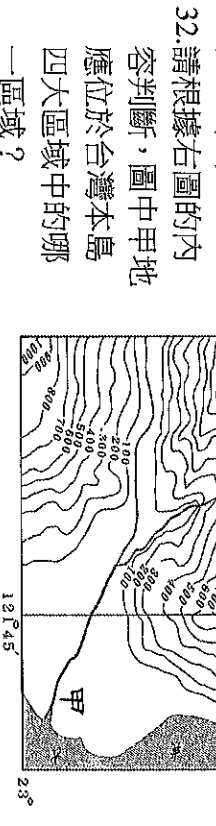
(A)甲 (B)乙 (C)丙 (D)丁

30.『農舍亂象



(甲)櫻花鉤吻鮭	(乙)鹽水蜂炮
(丙)八通關古道	(丁)清水斷崖
(戊)八八坑道	(己)雙心石滬

請問：哪些是屬於離島的特色？(A)甲乙 (B)戊己 (C)丙丁 (D)甲丁



年代	甲	乙	丙	丁
1893	43.23	0.23	30.13	26.41
1905	35.96	1.65	30.40	32.00
1925	32.83	2.55	31.09	33.53
1965	32.85	4.42	32.91	29.82
1985	30.37	3.31	40.79	25.53
1995	29.28	2.88	42.46	25.38
2001	28.71	2.68	43.35	25.27
2010	28.01	2.49	44.46	25.04

七年 班 號 姓名

35. 臺灣國家公園的標誌是根據各園區具有的資源特色為主要設計理念。

右圖為某處國家公園的標誌，該國家公園位於臺灣的哪個區域？(A)北部 (B)中部 (C)南部 (D)東部



36. 甲乙丙丁四個人參加 1 月 15 日在石牌國中舉辦的「區域住民」大賽，四個人皆以不可抗拒之天災人禍因素為遲到的理由，申請進入考場參加比賽，主考官從他們陳述內容中的氣候特色判斷，有兩個人說謊須淘汰，請問這淘汰的兩個人應是代表下列哪些區域？(A)北部、中部 (B)中部、南部 (C)南部、東部 (D)北部、東部

甲：我住在蘭嶼，騎車出門時被落山風吹倒而受傷，因此延誤到達時間。

乙：恆春這半個月都因西南氣流引來暴風雨，我們村莊淹水，對外交通不便，因而遲到。

丙：我從彰化搭車，因為苗栗山區下雨，中山高速公路在此路段塞車而耽誤時間。

丁：宜蘭山區這幾天陰雨綿綿，受落石之困，公車誤點，導致無法準時到達。


37. 下文為某大學的招生廣告，請問此大學位於台灣四大區域中的哪一區域？(A)北部 (B)中部 (C)南部 (D)東部

**精心辦學** 本校為研究型大學，向以理工著稱，尤其在電子、通訊及光電等領域佔世界頂尖領導之地位。

**發展願景** 以成為世界頂尖一流大學及全球高科技產業研發與創新之重鎮為長程發展願景。

**優質環境 交通便捷** 本校行政中心設於光復校區，位於高速公路交流道旁大學路，鄰科學工業園區及工業技術研究院，南下北上交通便捷。

◎下圖是蘇花公路改善計畫圖的部分路段，請根據圖內容回答 38-40 題：



38. 圖中的山地地形應是下列哪一山脈？

(A)雪山山脈 (B)中央山脈 (C)玉山山脈 (D)海岸山脈

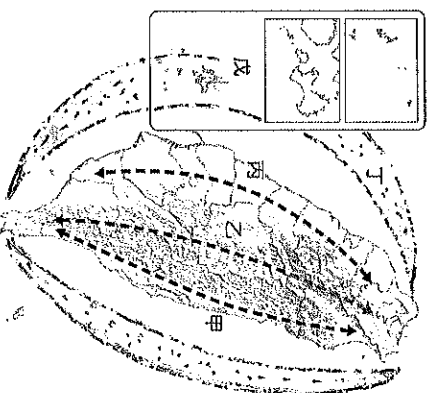
39. 從武陵隧道前往谷風隧道的方向應是下列何者？

(A)由東向西 (B)由西向東 (C)由南向北 (D)由北向南

40. 此交通建設主要是促進臺灣哪一個區域的發展？

(A)北部 (B)中部 (C)南部 (D)東部

◎臺灣為因應社會和環境的快速變化，規劃為右圖的「甲區-優質生活產業軸」、「乙區-環境保育軸」、「丙區-創新發展軸」、「丁區-海洋環帶」、「戊區-離島生態觀光區」等軸帶的國土計畫，作為未來的發展架構。請根據圖回答 41-44 題：



41. 「文化呈現多元，太魯閣、三仙臺等地區景觀優美，土地潔淨，以優質無污染的農產品著稱。」文中描述的特色是圖中哪個軸帶發展上所具有的優勢條件？

(A)甲 (B)乙 (C)丙 (D)丁

42. 圖中「丙」軸帶發展的特徵：(ㄅ)有東西向的高速鐵路交通網 (ㄆ)發展科學工業園區 (ㄇ)形成臺灣主要的都會區 (ㄎ)以設立國家公園、環境保育為發展目標，請問正確的項目有哪些？(A)ㄅㄆ (B)ㄆㄇ (C)ㄇㄎ (D)ㄅㄎ

43. 「這地區除了酒廠及陶瓷廠等少數工業外，因水源不足及其他因素影響，各種產業發展有限，過去一直是人口外移的地區。但自 1993 年初開放觀光、1995 年成立國家公園以來，設籍人口已逐漸增加；2001 年初實施小三通，因小三通僅限當地居民和中國往來，以致設籍人口成長更快。」文中敘述的地區位於圖中哪個軸帶？

(A)甲 (B)乙 (C)丁 (D)戊

44. 右側的警告標示主要是以保護生態環境資源為重心，請問：圖中哪個軸帶是最佳的標示地點？(A)乙 (B)丙 (C)丁 (D)戊



◎請閱讀下列內容，回答 45-46 題：

外傘頂汕原本位於台西鄉外海，經由海流和風力的交互作用，漸漸漂移到東石鄉附近，為雲林、嘉義、台南地區的漁民提供了一道維持生計的重要屏障。以前，大家住在那裡養蚵、抓虱目魚、烏魚，夜晚從海上看過去，一片燈火通明，好不熱鬧……。

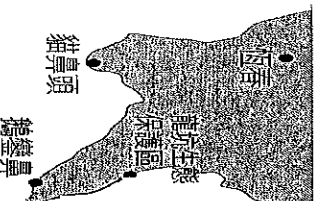
摘自經典雜誌

45. 文中所敘述的地區應位於下列哪一區域？(A)北部、中部 (B)中部、南部 (C)南部、東部 (D)北部、東部

46. 此文提及的海岸類型與下列何者相似？

(A)

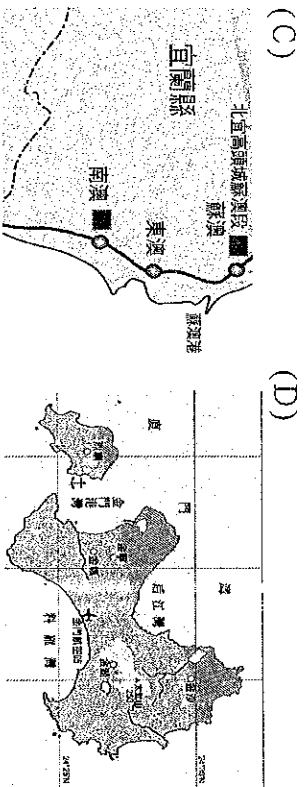
(B)



※背面尚有題目



七年 班 號 姓名



第三部分：公民科 (33%)  
配分：【第 47~63 題，每題 1 分；第 64~71 題，每題 2 分。】

一、選擇題

47. 因應國民特殊需求而設計，由政府編列預算，對於特定身分的人民(老年、身心障礙)提供定期或一次性的現金給付。此為政府提供的哪項社會福利？

- (A) 社會津貼 (B) 社會保險 (C) 福利服務 (D) 就業安全。

48. 社會福利成為國家制度或政策起源於哪一事件？

- (A) 富人施捨救濟 (B) 鄉里守望相助 (C) 18 世紀都市化 (D) 工業革命之後。

49. 人口從鄉村往都市集中，會衍生哪些問題？(甲) 社會流動緩慢 (乙) 人際關係疏離 (丙) 住宅價格昂貴 (丁) 上下班交通擁擠。

- (A) 甲乙丙丁 (B) 乙丙丁 (C) 甲丙 (D) 丁。

50. 「社會變遷」的敘述，何者正確？(A) 由器物帶動制度、理念是唯一變遷模式 (B) 不同社會都存在著不同的變化過程 (C) 結果必使人類生活便利、和諧 (D) 現代社會已相當進步，變遷速度趨於和緩。

51. 下列哪些做法可使社會福利更為完整？(甲) 政府嚴格查核，避免醫院浮報詐領健檢費 (乙) 臺灣兒童及家庭扶助基金會推動長期認養計畫 (丙) 依疾病輕重選擇適當醫療照顧，以免浪費資源 (丁) 人民應確實繳納税金不逃避。(A) 甲乙丙 (B) 甲乙丁 (C) 乙丙丁 (D) 甲乙丙丁。

52. 下列哪項屬於「器物層次」的變遷？(A) 因不當使用信用卡成為卡債族 (B) 資訊科技發達衍生犯罪問題 (C) 為照顧弱勢族群制定社會福利政策 (D) 社會共識由重視經濟發展轉為重視節能減碳。

53. 電話詐騙案件以家人生命安危為理由，儘管手法老套，但今年 1 到 4 月被詐金額高達 4 億 4 千萬，受騙者不乏高認知識分子(東森新聞 5.23)。上述犯罪問題將衍生何種影響？

- (A) 犯罪型態日趨暴戾 (B) 青少年犯罪率上升 (C) 民眾喪失對人性信任 (D) 嚴重影響個人健康。

54. 疾病管制署表示，南韓官方證實該國有 3 名中東呼吸症候群冠狀病毒感染確診病例，另有 64 名密切接觸者隔離觀察中。由於台灣與南韓觀光交流頻繁，政府提醒國人各項防疫重點，除避免前往醫院等易傳染區外，也要視狀況配戴口罩。(中時電子報 5.22)，上述政府做法

屬於何項社會福利？(A) 社會救助與津貼 (B) 社會保險 (C) 福利服務 (D) 健康與醫療照護。

55. 社會變遷下，哪些是「個人」可採取的因應之道？(甲) 培養獨立思考判斷能力 (乙) 法鼓山推動心六倫運動淨化人心 (丙) 媒體播放品德教育影片改善社會風氣 (丁) 秉持終身學習精神不斷充實。(A) 甲乙 (B) 丙丁 (C) 甲丁 (D) 乙丙。

56. 花蓮縣豐濱鄉港口部落的原住民與林務局合力復耕石梯坪上的水梯田，藉此重振部落產業。有關此做法的敘述，何者有「誤」？(A) 將忽視弱勢族群權益 (B) 結合政府與民間力量完成 (C) 社區營造產生的行動 (D) 落實社會正義精神。

57. 引發熱烈討論的「語言癮」，形容現代人講話常出現贅字，無法精準表達。但年輕世代認為，換個角度欣賞屬於網路世代文化，會發現不同的美(TVBS12.24)。有關語言改變的歷程，符合下列哪一概念？

- (A) 社會變遷 (B) 社會流動 (C) 社會問題 (D) 社會福利。

58. 營造公布合宜住宅購屋資格：承購人家庭年收入需低於 50% 分位點家庭平均所得；若公開銷售 3 個月後仍有餘屋，家庭年收入可放寬至低於 80% 分位點家庭平均所得；若再過 3 個月仍有餘屋，則承購人不需再具備任何資格限制。上述政府做法是為解決哪一社會問題？

- (A) 個人適應不良 (B) 犯罪型態更新 (C) 老人安養需求增加 (D) 貧富差距日益擴大。

59. 南台灣發起廢核遊行，訴求核一二三不延役、核廢料處理公開透明、啟動能源改革、產業轉型及建立低碳非核家園。透過號召民眾上街，表達「廢核、重生」期望(中央社 3.5)。上述企圖透過何項因素引發社會變遷？

- (A) 自然環境的快速改變 (B) 文化交流的負面影響 (C) 社會運動的蓬勃發展 (D) 科技的發展與創新。

60. 下列文宣指出政府透過哪一措施解決災區失業問題？(A) 社會保險 (B) 社會津貼 (C) 以工代賑 (D) 福利服務。

- ★僱用災民於地震後進行家園重建、維護及管理。  
★以行政院勞委會近一年公布之基本工資按日計算。  
★有意願者，請檢附國民身分證影本。  
★僱用期間以一年為限。

61. 下列行為與禮記 禮運篇 大同章的敘述，何者相符合？(A) 導盲犬協助視障行的權利 — 矜寡孤獨廢疾者，皆有所養 (B) 直升機運送災害救援物資 — 老有所終 (C) 嬰幼兒免費施打流感疫苗 — 壯有所用 (D) 就業服務站提供就業諮詢 — 幼有所長。

62. 阿美婚後辭去工作，擔任全職家庭主婦，政府將她納入國民年金對象。請問，「國民年金」屬於哪一福利項目？(A) 不需繳費的社會救助措施 (B) 進行生活保障的社會保險 (C) 營造健康環境的醫療照顧 (D) 提供多元服務的福利服務。

七年 班 號 姓名

63.憲法增修條文：國家應重視社會救助、福利服務、國民就業、社會保險及醫療保健等社會福利工作，對於社會救助和國民就業(就業安全)等救濟性支出應優先編列。下表有幾項屬於憲法增修條文規定應優先編列的支出？

- (A) 2 項 (B) 3 項 (C) 4 項 (D) 5 項。
- (甲) 實施全民健康保險。  
(乙) 開設新移民識字班。  
(丙) 5 歲兒童免費學前教育。  
(丁) 興建青少年休閒活動場所。  
(戊) 參加職業訓練，輔導就業。  
(己) 40 歲以上國民可免費乳癌篩檢。  
(庚) 免費提供低收入戶白米、奶粉等食物。

64.捷運公司相關做法，哪些落實「福利服務」精神？(甲)招募駕駛員，首重應徵者心理狀態是否穩定(乙)規劃夜間婦女候車區，加派人手進行巡邏(丙)維護旅客安全，設置廁所求助鈴及反偷拍偵測(丁)招募志工，提供協助視障者進行路線引導(戊)候車電視螢幕宣傳疫苗施打注意事項。

- (A) 甲乙丙丁 (B) 乙丙丁 (C) 丙戊 (D) 乙丁。

65.104 學年度起教育部辦理「大學校院弱勢學生學習輔導補助計畫」，編列新臺幣 1.9 億預算，鼓勵國立大學提供弱勢學生優先入學名額，強化其社會責任(民報 5.12)。這種透過『經濟扶助措施面』落實保障弱勢學生方式，是屬於何項社會福利制度？(A) 就業安全 (B) 福利服務 (C) 社會救助 (D) 社會保險。

66.偏鄉教師流動率高，每年老師更替是家常便飯，前一個走了，下一個剛來，孩子的學習成果誰來了解(台灣立報 2.13)。如此每年都在換老師，這樣的教育對偏鄉學生們一點都不公平，也會造成哪項影響？(A) 社會自由開放 (B) 欠缺獨立思考能力 (C) 社會秩序難以維持 (D) 阻礙社會流動進行。

67.前資深媒體人李豐楙批評時下媒體以物化新聞女主播為手段，吸引民眾觀看，女主播們也推波助瀾，不再積極培養播報和新聞採訪專業，只專心經營個人臉書、部落格，靠 PO 出大量養眼、吸睛的性感自拍照來衝高人氣(風傳媒 5.23)。此一荒唐現象正突顯了社會變遷下哪一負面衝擊？(A) 價值觀念的混淆 (B) 個人的適應不良 (C) 弱勢權益的忽視 (D) 社會問題層出不窮。

## 二、題組

◎公民老師在自己的部落格中設置「資訊倫理專區」，用來提醒學生在使用網路時應學習尊重他人的觀念。

其中提出探討的議題有：

第一項議題：近幾年成立的網路成癮特別門診，求診以青少年為主，醫師發現上網成癮會修改大腦決策過程，使其無法控制，壓力愈大愈想要使用網路。

第二項議題：消費者於餐廳品嚐美食，喜愛拍照外加打卡，標註好友時無形也洩露生活動態，或

全家出遊一起打卡時，亦顯示家裡空無一人，容易被有心人士盯上。

第三項議題：藝人楊又穎疑因不堪網路霸凌輕生，引發社會對此問題關注，法務部部長建議透過修正通訊保障及監察法，可有效遏止網路霸凌狀況。

68.上述「資訊倫理專區」設置的目的是透過哪一層次進行影響？(A) 器物層次 (B) 制度層次 (C) 理念層次 (D) 倫理層次。

69.第一項議題中形成網路成癮的原因是 (A) 價值觀念的混淆 (B) 個人的適應不良 (C) 弱勢權益的忽視 (D) 網際網路過於便利。

70.第二項議題在探討喜愛到處打卡者，容易涉及哪一資訊倫理的問題？(A) 資訊隱私 (B) 智慧財產 (C) 網路禮節 (D) 網路犯罪。

71.第三項議題中法務部部長提出哪一層次可有效遏止網路霸凌事件？(A) 器物層次 (B) 制度層次 (C) 理念層次 (D) 以上均是。

※題目到此結束※

